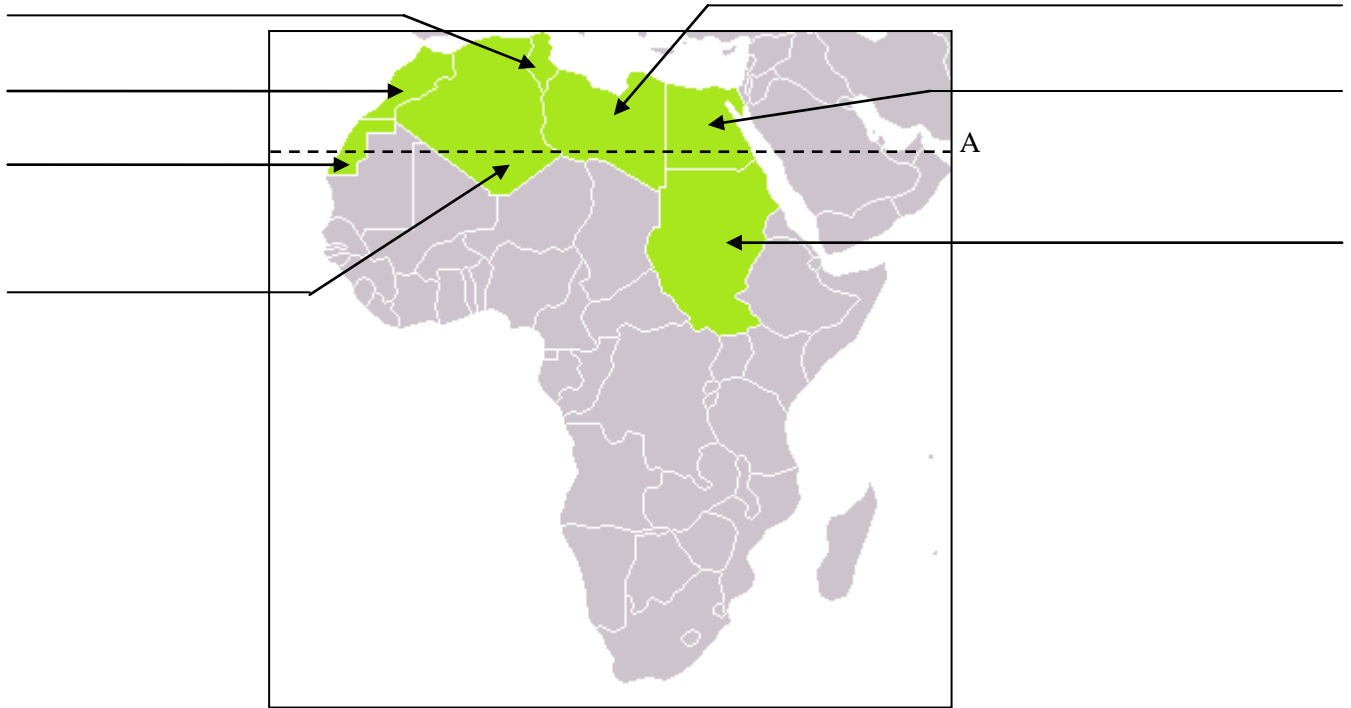


# SEVERNÍ AFRIKA

© Za pomoci atlasu světa pojmenuj státy a území severní Afriky na mapce

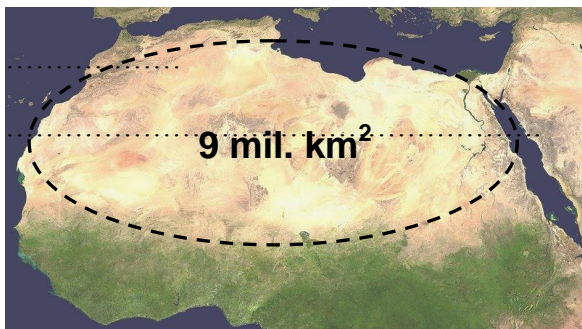
Jak se jmenuje rovnoběžka označená na obrázku jako „A“? .....



© Ke státům severní Afriky v následujícím přehledu doplň hlavní města.

STÁT	HLAVNÍ MĚSTO	STÁT	HLAVNÍ MĚSTO
EGYPT		ALŽÍRSKO	
TUNISKO		LIBYE	
MAROKO		SÚDÁN	

## POVRCH AFRIKY



© Povrchu Afriky jednoznačně dominuje poušť s rozlohou .....

Na mapě severní Afriky si můžeš všimnout několika pouští, které mají v názvu slovo ERG nebo HAMÁDA.

Zkus pomocí literatury nebo internetu zjistit jejich význam.

ERG ..... HAMÁDA .....

## VODSTVO SEVERNÍ AFRIKY

☉ V severní Africe je mnoho řek značených touto značkou

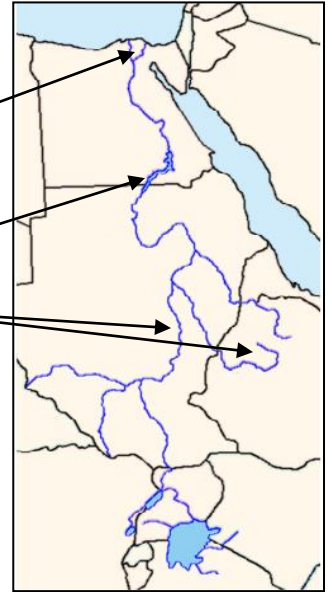


. Zjisti v atlasu, co značka znamená.

.....  
 .....

Severní Afrikou protéká druhá nejdelší řeka světa. Zkus k ní doplnit následující informace:

- a) jaká je její přibližná délka? .....
- b) kterými státy severní Afriky protéká? .....
- c) do kterého moře a jakým způsobem ústí? .....
- d) proč má, přes svoji délku, málo vody? .....
- e) jak se jmenuje přehrada, která je na ní postavená? .....
- f) soutokem kterých dvou zdrojnic vzniká? .....
- g) vypiš tři libovolná města na této řece .....
- h) jaký význam měla tato řeka pro obyvatele ve svém okolí již ve starověku?



.....

## OBYVATELSTVO SEVERNÍ AFRIKY



☉ Dopln text týkající se obyvatelstva severní Afriky:

Obyvatelé severní Afriky jsou především Arabové. O jakou rasu jde?

\_\_\_\_\_

Jaké náboženství je rozšířené v severní Africe?

\_\_\_\_\_

## HOSPODÁŘSTVÍ SEVERNÍ AFRIKY

☉ V mapce jsou vyznačeny nejdůležitější suroviny těžené v severní Africe. Zkus je podle použitých značek pojmenovat a přiřadit ke správnému státu (můžeš použít atlas).



.....



.....



.....

